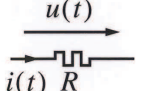
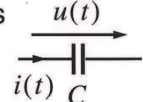


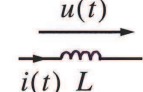
Växelströmsteori

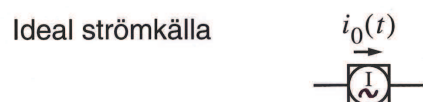
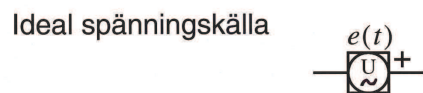
Tidsberoende storheter:

Spänning	$u(t)$
Ström	$i(t)$
Effekt	$p(t)$

Resistans  $u(t) = Ri(t)$

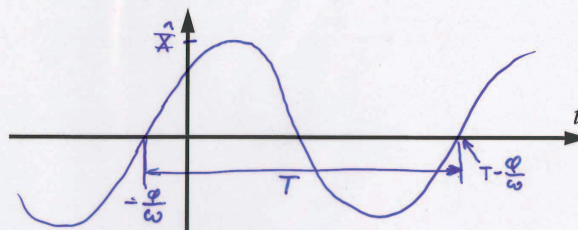
Kapacitans  $i(t) = C \frac{d}{dt} u(t)$

Induktans  $u(t) = L \frac{d}{dt} i(t)$



Stationär sinussignal

$$x(t) = \hat{X} \sin(\omega t + \varphi)$$



$x(t)$	momentanvärde	φ	fasvinkel
\hat{X}	amplitud (toppvärde)	T	periodtid
ω	vinkelfrekvens	f	frekvens

Samband: $f = \frac{1}{T}$

$$\omega = 2\pi f$$

Momentan effekt: $p(t) = u(t)i(t)$

Aktiv effekt: $P = \frac{1}{T} \int_0^T p(t) dt$

Effektivvärde: $X_e = \sqrt{\frac{1}{T} \int_0^T x^2(t) dt} = \frac{\hat{X}}{\sqrt{2}}$ *sinus*

$j\omega$ -metoden

- Ersätt strömmar, spänningar och källor med deras komplexa motsvarigheter:

$$a(t) = \hat{A} \sin(\omega t + \varphi) \Rightarrow$$

$$A = \hat{A} e^{j\varphi} = b + jc$$

$$b = \hat{A} \cos \varphi \quad c = \hat{A} \sin \varphi$$

- Ersätt R , L , C med deras impedanser:

$$Z_L = j\omega L \quad Z_C = \frac{1}{j\omega C} \quad Z_R = R$$

- Lös problemet med likströmsteori.

- Gör omvändningen till punkt 1:

$$A = \hat{A} e^{j\varphi} = b + jc \Rightarrow$$

$$a(t) = \hat{A} \sin(\omega t + \varphi)$$

$$\hat{A} = \sqrt{b^2 + c^2}$$

$$\varphi = \arg(b + jc) = \text{atan} \frac{c}{b} \quad (\pm\pi)$$

Om $b < 0$

Effektbegreppet

Grunduttryck: $P = UI$

Källor avger elektrisk effekt.

Resistorer konsumerar elektrisk effekt.

För ett helt nät gäller

$$\sum_k P_k = 0$$

Effektkurva

